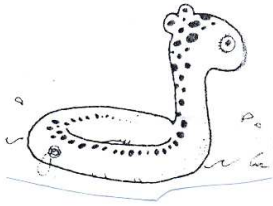
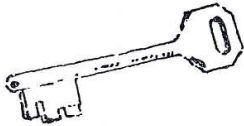


Osserva le figure, completa le frasi con i nomi degli oggetti, e con i termini SOLIDO, LIQUIDO E GAS




Il è un oggetto .
.....; dentro al
vi è un




La chiave è un oggetto



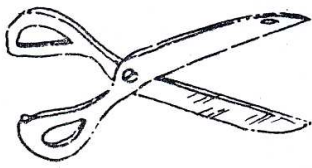
La è un oggetto
dentro alla vi è un



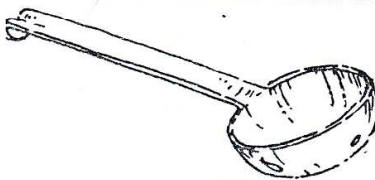
Il è un oggetto
dentro vi è un




La è un oggetto
dentro la vi è un



La è un oggetto



Il è un oggetto



Il è un oggetto .
.....; dentro al
vi è un